



PREFEITURA

CNPJ: 76.3941/0001-70

PROVA ESTAGIÁRIOS DE MAGISTÉRIO

LÍNGUA PORTUGUESA

Leia o texto a seguir:

Como opera a máfia que transformou o Brasil num dos campeões da fraude de medicamentos

É um dos piores crimes que se podem cometer. As vítimas são homens, mulheres e crianças doentes — presas fáceis, capturadas na esperança de recuperar a saúde perdida. A máfia dos medicamentos falsos é mais cruel do que as quadrilhas de narcotraficantes. Quando alguém decide cheirar cocaína, tem absoluta consciência do que coloca no corpo adentro. Às vítimas dos que falsificam remédios não é dada oportunidade de escolha. Para o doente, o remédio é compulsório. Ou ele toma o que o médico lhe receitou ou passará a correr risco de piorar ou até morrer. Nunca como hoje os brasileiros entraram numa farmácia com tanta reserva.

PASTORE, Karina. O Paraíso dos Remédios Falsificados. Veja, nº 27. São Paulo: Abril, 8 jul. 1998, p. 40-41.

1) Segundo a autora, “um dos piores crimes que se podem cometer” é:

- A) a venda de narcóticos.
- B) a falsificação dos remédios.
- C) a receita de remédios caros.
- D) a venda abusiva de remédios.
- E) a falta de formação dos farmacêuticos.

2) Com relação ao número de sílabas, marque a única alternativa que NÃO apresenta apenas palavras TRISSÍLABAS:

- A) leitura, espelho, iguana
- B) observar, aposta, guarita

- C) Arlindo, mosquito, canela
- D) Olinda, sacada, floreira
- E) caneca, aquei, carnaval

3) Assinale a alternativa em que as palavras conforme a separação silábica dos encontros vocálicos apresentam a seguinte sequência: ditongo, tritongo e hiato.

- A) piano, Uruguai, lousa
- B) moeda, saguão, piolho
- C) leite, Paraguai, saúde
- D) poeta, saguão, roupa
- E) leite, Uruguai, Neusa

4) Assinale a alternativa em que as palavras completam CORRETAMENTE as lacunas da frase a seguir:

“Diga ---- eles que estejam daqui ---- pouco ---- porta da farmácia”.

- A) à, há, a
- B) a, há, à
- C) a, a, à
- D) à, a, a
- E) a, a, a

5) O plural das palavras abaixo está CORRETO em:

- A) quartel = quartéis.
- B) capitão = capitões.
- C) fogão = fogãos.
- D) farol = faroles.
- E) anão = anães

6) Assinale a alternativa que apresenta o substantivo coletivo CORRETAMENTE:

- A) grupo de artistas = constelação.
- B) grupo de cavalgadas = rebanho.
- C) cadeia de montanhas = cordilheira.
- D) raios de sol = réstia.
- E) grupo de peixes = caravana.



PREFEITURA

CNPJ: 76.3941/0001-70

7) Assinale a alternativa INCORRETA em relação ao uso das palavras meio/meia.

- A) Mariana estava meio preocupada com a prova do PSS.
- B) A prova estava marcada para meio dia e meia.
- C) Rosana estava tão ansiosa que comeu meia pizza de uma só vez!
- D) A irmã de Regiane estava meia chorosa após o susto do barulho da buzina.
- E) Vamos fazer meia hora de descanso antes de seguirmos viagem.

8) Marque a alternativa CORRETA com relação ao uso do verbo 'trazer' para completar a frase adequadamente:

“Todos haviam falado anteriormente que tinham _____ suco para a festa, mas ninguém _____. Vilma me ligou agora e disse que _____ refrigerante e o Edson chegou agora e disse que _____ o sorvete”.

- A) trago, trouxe, traria, trago.
- B) trazido, trouxe, trago, traria.
- C) trazido, trago, traria, traria.
- D) trago, trouxe, traz, trouxe.
- E) trazido, trouxe, trará, trouxe.

9) Marque a alternativa em que a palavra 'trás' esteja sendo utilizada de maneira INCORRETA:

- A) A parte de trás do meu cabelo ficou toda suja de ovo.
- B) Por trás de toda mentira há um fundo de verdade.
- C) Pinte o lado de trás do portão, mas o lado da frente ainda não deu tempo.
- D) Minha avó sempre trás almoço para mim quando estou doente.
- E) Ele olhou para trás e arrependeu-se do que fez.

Leia o texto a seguir:

Brincadeira retrô

Me lembro bem de quando era pequena e do quanto minha imaginação era fértil. Eu fui daquelas crianças que davam arrepios nos pais por conta das brincadeiras mirabolantes: a cama de casal que virava navio pirata, o sofá da sala que virava palco de teatro com direito a cortina de lençol e tudo mais... Toda vez que começava a me animar minha avó dizia: “Lá vem essa menina inventando moda”. Hoje vejo que esse era o jeito de brincar das crianças de antigamente. Não havia toda essa parafernália eletrônica, que toca música, anda, fala e não deixa nenhum espaço para a imaginação. Precisávamos inventar as nossas brincadeiras. Criança moderna não sabe brincar sozinha, tem sempre a babá, o computador, o DVD... Hoje tento incentivar meu filho a brincar assim também. Não é que eu vá jogar todos os brinquedos dele fora, mas com certeza ele vai aprender a se divertir com muito menos. Dá mais trabalho, faz mais bagunça, mas é infinitamente mais divertido.

POMÁRICO, Veri. *Revista Gol*, Editora Trip: s/l. s/d.

10) A autora desse texto defende que:

- A) as brincadeiras das crianças de antigamente eram perigosas
- B) as brincadeiras de antigamente eram mais criativas que as atuais
- C) as brincadeiras de hoje devem ser aceitas.
- D) as crianças devem brincar com parafernalias eletrônicas
- E) as crianças devem ser proibidas de brincar com parafernalias eletrônicas.

MATEMÁTICA

15) Assinale a sequência lógica.

11) O estoque de comida de um hospital daria para alimentar 20 (vinte) pacientes por 15 dias. Porém, entraram 5 (cinco) novos pacientes. Qual será o tempo de duração dos alimentos?

- A) 14 dias
- B) 12 dias
- C) 10 dias
- D) 13 dias
- E) 11 dias

12) No município de Cornélio Procópio para cada 100 professores 3 são homens. Há no município 500 professores. Quantos professores são mulheres?

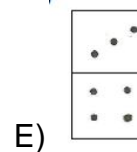
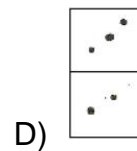
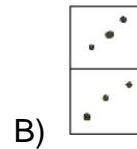
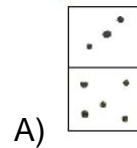
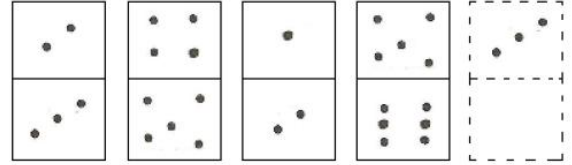
- A) 490
- B) 495
- C) 485
- D) 480
- E) 475

13) 460 é 2% de quanto?

- A) 25000
- B) 24000
- C) 23000
- D) 24500
- E) 23500

14) Quanto é $\frac{2}{5}$ de R\$ 1.137,00?

- A) R\$ 454,80
- B) R\$ 452,60
- C) R\$ 554,80
- D) R\$ 654,80
- E) R\$ 552,80



CONHECIMENTOS GERAIS

16) Qual é o maior país em extensão do mundo?

- A) Brasil
- B) China
- C) Rússia
- D) Índia
- E) Estados Unidos



PREFEITURA

CNPJ: 76.3941/0001-70

17) Quem proclamou a República?

- A) Marechal Deodoro da Fonseca
- B) Dom Pedro I
- C) Floriano Vieira Peixoto
- D) Prudente de Moraes
- E) Hermes da Fonseca

18) As pessoas de quais tipos sanguíneos são consideradas doadoras universais?

- A) TIPO A
- B) TIPO B
- C) TIPO O
- D) TIPO AB
- E) TIPO ABO

19) A ONU é uma Organização Internacional que tem como objetivo:

- A) Zelar pela cultura de todos os países e financiar seu desenvolvimento.
- B) Cooperação em relação ao zelo pela cultura, financiamentos para o desenvolvimento e manter o patrimônio cultural.
- C) Buscar a paz e o desenvolvimento mundial por meio da cooperação entre os países.
- D) Buscar a paz, porém não se envolve com desenvolvimento mundial.
- E) Zelar pelo Patrimônio cultural e financiar sua manutenção.

20) O **Sol** é uma estrela e por meio dele é possível identificar os quatro **pontos cardiais**. Para isso, estique o braço direito para a direção em que o **Sol nasceu** (nascente). Em seguida, estique o braço esquerdo para a outra direção (**ponto - poente**). Qual direção o sol nasce?

- A) Oeste
- B) Norte
- C) Leste
- D) Sul